

Теоретический материал (часть 1)

Асимптоты графика функции

Определение 1. Асимптотой графика функции $y = f(x)$ называется такая прямая, расстояние d до которой от точки $M(x; f(x))$ графика функции, стремится к нулю при неограниченном удалении точки M от начала координат (рис. 1).

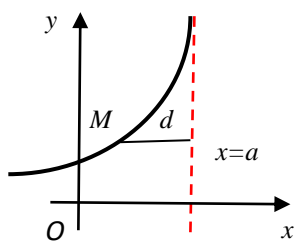


Рис.1

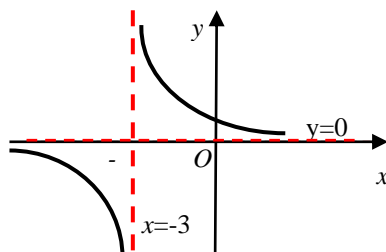


Рис.2

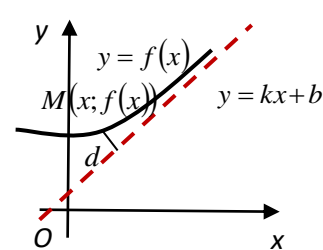


Рис.3

Различают вертикальные, наклонные и горизонтальные асимптоты.

Определение 2. Функция $y = f(x)$ в точке x_0 имеет вертикальную асимптоту, если выполняется, хотя бы одно из условий: $\lim_{x \rightarrow x_0-0} f(x) = \infty$ или $\lim_{x \rightarrow x_0+0} f(x) = \infty$.

Как правило, x_0 – это точки разрыва второго рода. Непрерывные функции, определенные на всей числовой прямой, не имеют вертикальных асимптот.

Например, график функции $f(x) = \frac{1}{x+3}$ имеет вертикальную асимптоту $x = -3$ (рис.2), так как $\lim_{x \rightarrow -3-0} \frac{1}{x+3} = -\infty$, $\lim_{x \rightarrow -3+0} \frac{1}{x+3} = \infty$.

Определение 3. Прямая $y = kx + b$ является наклонной асимптотой графика функции $f(x)$ при $x \rightarrow +\infty$ ($x \rightarrow -\infty$), если $\lim_{x \rightarrow +\infty} [f(x) - (kx + b)] = 0$ (рис.3).

Прямая $y = kx + b$ является наклонной асимптотой графика функции $f(x)$ при $x \rightarrow +\infty$ ($x \rightarrow -\infty$) тогда и только тогда, когда существуют конечные пределы $\lim_{x \rightarrow +\infty} \frac{f(x)}{x} = k$ и $\lim_{x \rightarrow +\infty} [f(x) - kx] = b$ ($\lim_{x \rightarrow -\infty} \frac{f(x)}{x} = k$ и $\lim_{x \rightarrow -\infty} [f(x) - kx] = b$).

Частным случаем наклонной асимптоты (при $k = 0$) является горизонтальная асимптота.

Определение 4. Прямая $y = b$ является горизонтальной асимптотой графика функции $f(x)$ при $x \rightarrow +\infty$ ($x \rightarrow -\infty$) тогда и только тогда, когда существует конечный предел $\lim_{x \rightarrow +\infty} f(x) = b$ (соответственно $\lim_{x \rightarrow -\infty} f(x) = b$).

Например, график функции $f(x) = \frac{1}{x+3}$, помимо вертикальной асимптоты $x = -3$, имеет горизонтальную асимптоту $y = 0$ (рис. 2), так как $\lim_{x \rightarrow \infty} \frac{1}{x+3} = 0$.

Пример 1. Найти асимптоты графика функции $f(x) = \frac{x^2}{x-1}$.

Решение. Функция непрерывна всюду, кроме точки $x = 1$, в которой она имеет разрыв второго рода, причем $\lim_{x \rightarrow 1-0} \frac{x^2}{x-1} = -\infty$, $\lim_{x \rightarrow 1+0} \frac{x^2}{x-1} = +\infty$, следовательно, $x = 1$ – вертикальная асимптота.

Исследуем функцию на наклонную асимптоту:

$$\lim_{x \rightarrow \infty} \frac{f(x)}{x} = \lim_{x \rightarrow \infty} \frac{x^2}{x-1} \cdot \frac{1}{x} = \lim_{x \rightarrow \infty} \frac{x}{x-1} = 1, \text{ следовательно, } k = 1;$$

$$\lim_{x \rightarrow \infty} (f(x) - kx) = \lim_{x \rightarrow \infty} \left(\frac{x^2}{x-1} - x \right) = \lim_{x \rightarrow \infty} \left(\frac{x}{x-1} \right) = 1, \text{ получили } b = 1.$$

Таким образом, прямая $y = x + 1$ – наклонная асимптота графика функции.

Пример 2. Найти асимптоты графика функции $f(x) = \frac{|x-1|}{x^2}$.

Решение. Функция непрерывна всюду, кроме точки $x = 0$, в которой она имеет разрыв второго рода, причем $\lim_{x \rightarrow 0} \frac{|x-1|}{x^2} = +\infty$, следовательно, $x = 0$ – вертикальная асимптота.

Найдем наклонные асимптоты (если они существуют). Так как $\lim_{x \rightarrow \pm\infty} \frac{f(x)}{x} = \lim_{x \rightarrow \pm\infty} \frac{|x-1|}{x^2} \cdot \frac{1}{x} = \lim_{x \rightarrow \pm\infty} \frac{|x-1|}{x^3} = 0$, $k = 0$, $\lim_{x \rightarrow \pm\infty} (f(x) - kx) = \lim_{x \rightarrow \pm\infty} \left(\frac{|x-1|}{x^2} - 0 \cdot x \right) = 0$, $b = 0$, то прямая $y = 0$ является частным случаем наклонной асимптоты – горизонтальной асимптотой графика функции $f(x) = \frac{|x-1|}{x^2}$.